



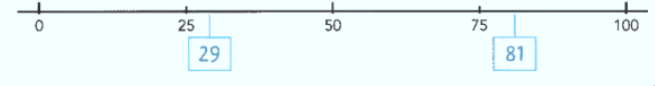

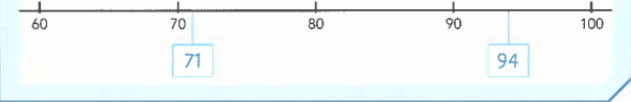




Doelen Blok 3 WIG5 groep 4

ORIËNTATIE GETALLEN			
<p>blok 3 doel 1</p> <p>► Je leert verder- en terugtellen met sprongen van 10 op de streepjesgetallenlijn.</p> 		<p>blok 3 doel 1</p> <p>► Je leert verder- en terugtellen met sprongen van 10 op de lege getallenlijn.</p> 	
<p>blok 3 doel 2</p> <p>► Je leert getallen schattend plaatsen en aflezen op de bijna lege getallenlijn van 0 tot en met 100.</p> <p>Ik plaats eerst handige hulpgetallen. 50 tussen 0 en 100. 25 tussen 0 en 50. 75 tussen 50 en 100.</p> 		<p>blok 3 doel 2</p> <p>► Je leert getallen schattend plaatsen en aflezen op een deel van de bijna lege getallenlijn.</p> <p>Ik plaats eerst handige hulpgetallen. 80 tussen 60 en 100. 70 tussen 60 en 80. 90 tussen 80 en 100.</p> 	

OPTELEN EN AFTREKKEN


blok 3 doel 4

- Je leert optelsommen en aftreksommen tot en met 20 uitrekenen met de strategie: rekenen via de 10.



$$8 + 6 = 14$$

Eerst 2 erbij, dan 4 erbij.



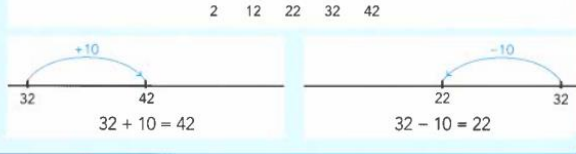
$$12 - 7 = 5$$

Eerst 2 eraf, dan 5 eraf.



blok 3 doel 3

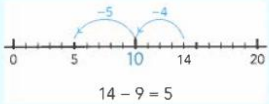
- Je leert optellen en aftrekken met een tiental op de getallenlijn tot en met 100.



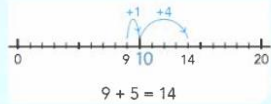
blok 3 doel 4

- Je leert een optelsom en aftreksom tot en met 20 maken bij verschillende verhalen.

Een boek heeft 14 bladzijden. Kim heeft er 9 gelezen.
Hoeveel bladzijden moet ze nog lezen?



$$14 - 9 = 5$$



$$9 + 5 = 14$$



GELD

blok 3 doel 5

- Je leert bedragen tot en met 100 euro herkennen en samenstellen.

