

Toets 6.1 Klokkijken

Deze toets hoort bij de ThiemeMeulenhoff-uitgave (ISBN 978 90 557 4642 2):

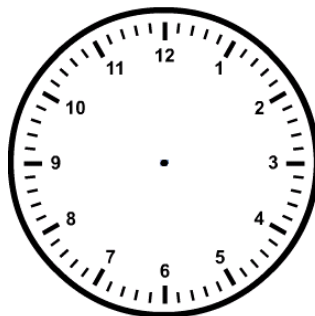
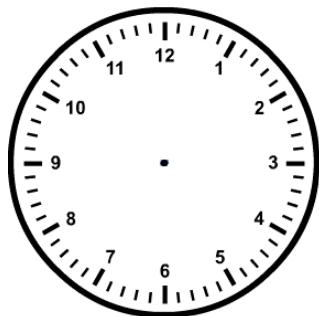
Rekenen: een hele opgave, deel 2

Joep van Vugt
Anneke Wösten

Toets 6.1 Klokkijken

Opdracht 1

De digitale klokken in deze opdracht geven een tijd aan. Dezelfde tijd kun je ook op een wijzerklok aangeven. Teken de wijzers in de wijzerklokken om dezelfde tijd aan te geven.



Opdracht 2

Er bestaan verschillende digitale klokken. Je hebt 12 uurs-klokken en 24 uurs-klokken. In deze opdracht zie je twee digitale 12 uurs-klokken. Schrijf op de lijnen welke tijden ze aangeven.



Opdracht 3

In deze opdracht zie je twee digitale 24 uurs-klokken. Schrijf op de lijnen welke tijden ze aangeven.





Opdracht 4

Hieronder zie je twee digitale klokken. Schrijf op de lijnen de tijd die de klokken 20 minuten daarvoor aangaven.





Opdracht 5

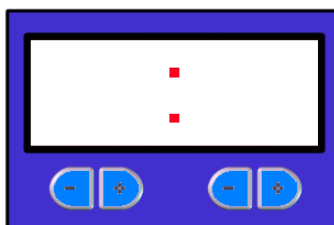
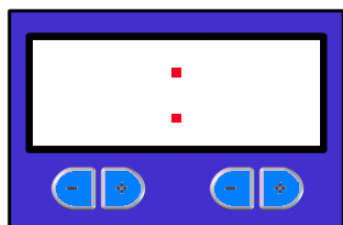
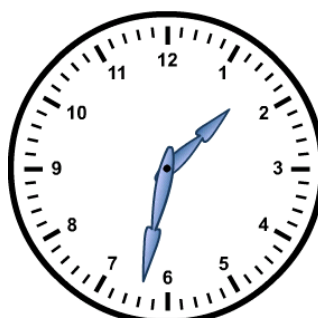
De onderstaande digitale klokken geven verschillende tijden aan, hoe spreek je deze tijden uit? Schrijf dit op in woorden.





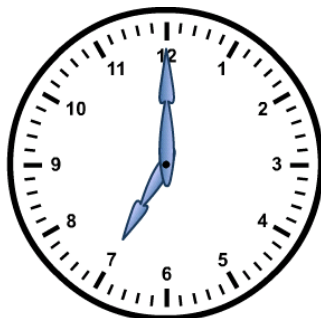
Opdracht 6

De wijzerklokken in deze opdracht geven een tijd aan. Dezelfde tijd kun je ook op een digitale klok aangeven. Schrijf de tijd in het schermje van de digitale klok die er onder staat.



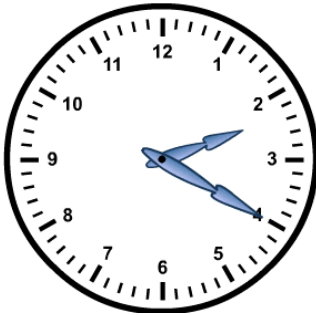
Opdracht 7

Hieronder zie je een wijzerklok en een digitale klok. Hoe laat is het op de verschillende klokken? Schrijf dit op de lijnen onder de klokken.



Opdracht 8

De onderstaande wijzerklokken geven verschillende tijden aan, hoe spreek je deze tijden uit? Schrijf dit op in woorden.





Opdracht 9

De wijzerklokken in deze opdracht hebben geen cijfers. Schrijf op de lijnen hoe laat het op deze klokken is.





Opdracht 10

Welke tijden geven de wijzerklokken hieronder aan? Schrijf dit op de lijnen.



