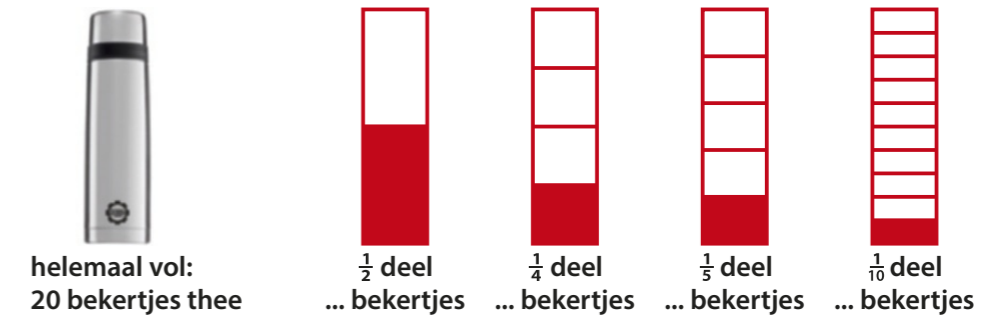


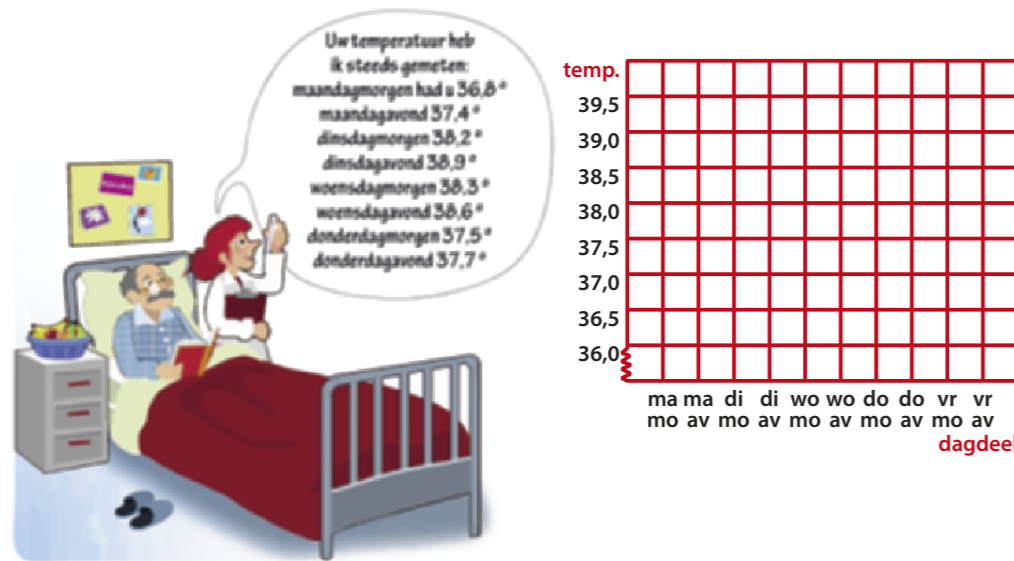
Ik kan optellen en aftrekken tot en met 10000

$1575 + 1300 =$	$6000 - 1050 =$	$3600 + \dots = 10000$
$4500 + 1605 =$	$8000 - 2990 =$	$2050 + \dots = 10000$
$3705 + 2595 =$	$5000 - 2050 =$	$6100 + \dots = 10000$
$6450 + 1700 =$	$7000 - 3990 =$	$4900 + \dots = 10000$
$7495 + 1705 =$	$9000 - 1990 =$	$5050 + \dots = 10000$

Ik kan een deel van het geheel uitrekenen



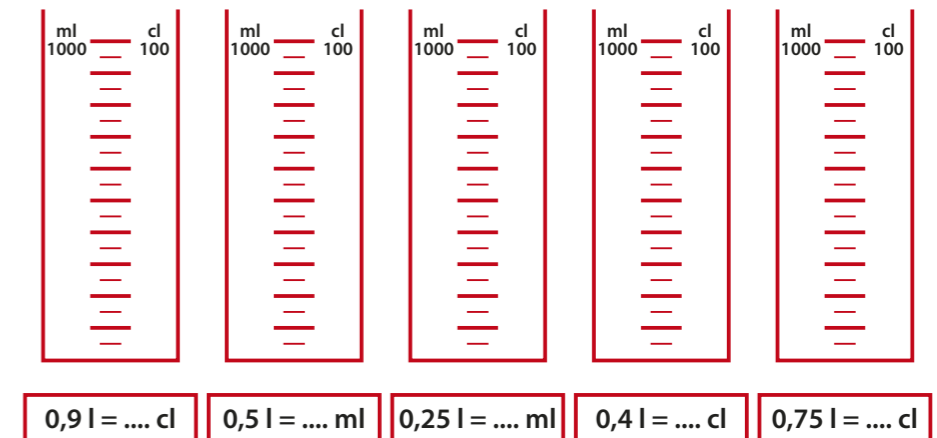
Ik kan een lijngrafiek tekenen



Boek 6b blok 2: De familiedag



Ik kan een lijn tekenen op de goede plaats van de maatbeker en ik kan de andere maat invullen



Ik kan werken met een verhoudingstabel

Hoeveel tijd heb je nodig om 60 km te fietsen?

afstand	4 km	8 km		20 km		60 km
tijd	15 min		45 min		60 min	

Ik kan de grootste inhoud kleuren

3,5 l	4 l
1 l	1,3 l
0,33 l	0,3 l
1,8 l	2 l
2,7 l	2,66 l