

### Ik kan inhoud uitrekenen in m<sup>3</sup> en omzetten in liters



25 m x 12 m x 8 m

Wat is de inhoud in m<sup>3</sup>? .....

Hoeveel liter is dat? .....

### Ik kan kommagetallen optellen en aftrekken

$2,4 + 0,35 =$

$6,7 - 1,6 =$

$4,7 + 1,45 =$

$3,5 - 2,8 =$

$3,52 + 0,8 =$

$5,2 - 3,9 =$

Samen 4

Samen 5

$2,3 + \dots$

$3,75 + \dots$


$3,4 + \dots$

$1,45 + \dots$

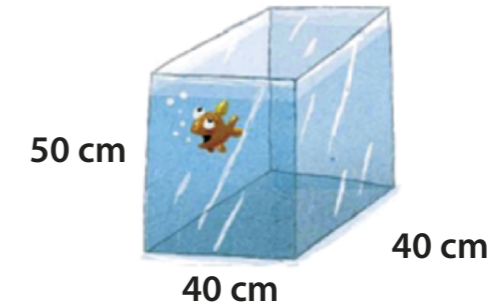
$0,8 + \dots$

$2,65 + \dots$

### Boek 7b blok 3: Werelddieren



### Ik kan inhoud uitrekenen in cm<sup>3</sup> en omzetten in liters



Hoeveel liter water heb je nodig om dit aquarium helemaal te vullen?

### Ik kan cijferend vermenigvuldigen

Youri koopt 43 knuffeldieren.  
De knuffeldieren kosten € 946,-.



43	34
22 x	55 x
86	2 x
860 +	20 x
946	34
	58 x

### Ik kan tijdsduur uitrekenen

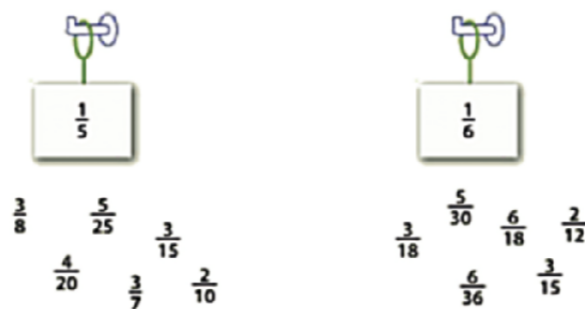
a Roan en Semmy zijn om 10:35 uur naar het museum gegaan. Hoelang zijn ze nu in het museum?



b Daphne is nu 5 kwartier aan het schilderen. Hoe laat is zij begonnen?



### Ik weet welke breuken gelijkwaardig zijn



zon op: 6:23 uur  
zon onder: 20:48 uur

### Ik kan tijdsduur uitrekenen

- a De kwikstaart is actief van een kwartier na zonsopgang tot een half uur voor zonsondergang.
- b De koolmees is actief van een half uur voor zonsopgang tot zonsondergang.
- c De merel is actief van zonsopgang tot 3 kwartier voor zonsondergang.

