

Ik kan meerkeuzevragen beantwoorden



- a De vlieger kost €19,90. Vandaag 10% korting. De vlieger kost vandaag ongeveer?
 • € 16,- • € 18,- • € 19,-



- b De oppervlakte van een vierkant grasveld is 36 m². Wat is de omtrek?
 • 24 m • 30 m • 40 m



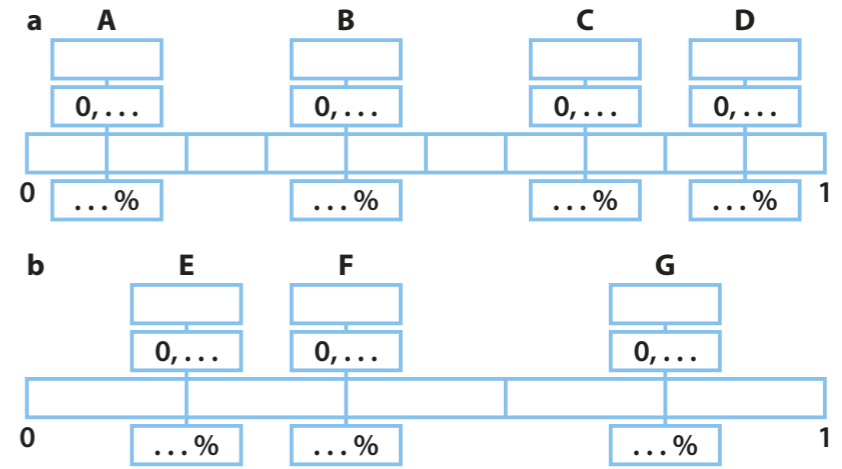
- c De kinderen op de camping kunnen kiezen uit voetbal of volleybal. 1 van de 4 kinderen kiest voor volleybal. Hoeveel procent is dat?
 • 25% • 50% • 75%
- d Het aantal Nederlanders dat in 2007 op vakantie ging naar Frankrijk is 2087348. Rond dit getal af op een honderdduizental.
 • 2000000 • 2090000 • 2100000

Boek 7b blok 4: Op vakantie



Ik weet de relatie tussen breuken, kommagetallen en procenten

Schrijf het zo op: $A = \frac{1}{10} = 0,1 = 10$



Ik kan cijferend delen

$882 : 18 =$	$784 : 16 =$	$562 : 14 =$	$756 : 12 =$
$\begin{array}{r} 882 \\ \dots - \\ \dots \end{array}$	$\begin{array}{r} 784 \\ \dots - \\ \dots \end{array}$	$\begin{array}{r} 562 \\ \dots - \\ \dots \end{array}$	$\begin{array}{r} 756 \\ \dots - \\ \dots \end{array}$
...X	...X	...X	...X



Ik kan schaal aflezen, gebruiken en berekenen




- a De schaal is 1:100. Wat is de hoogte van de schommel tot de grond in werkelijkheid?



- b De schaal is 1:200. Wat is de lengte van de kano in werkelijkheid?

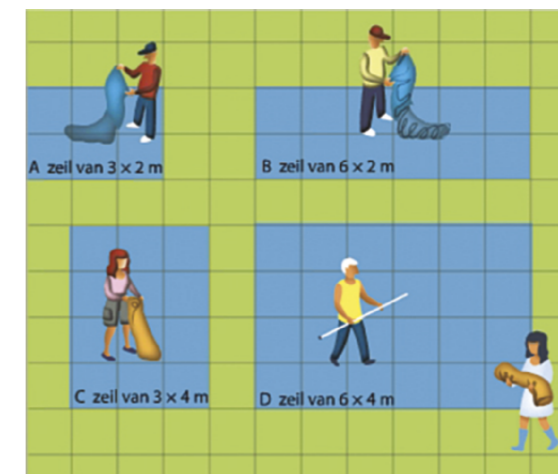


- c De schaal is 1:30. Wat is de hoogte van het zadel tot de grond in werkelijkheid?



- d De schaal is 1:150. Wat is de breedte van het zwembad in werkelijkheid?

Ik kan de oppervlakte vergroten en verkleinen



- a grondzeil A kost € 2,50. Wat is dan de prijs van de andere grondzeilen?