

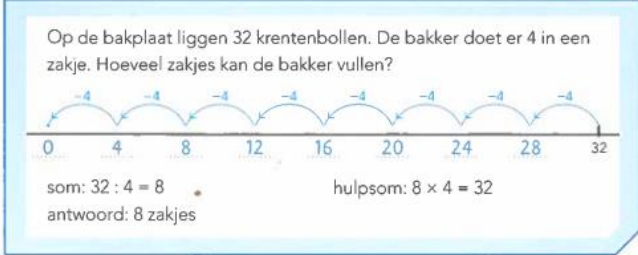







Doelen Blok 4 WIG5 groep 5

| VERMENIGVULDIGEN EN DELEN | | | |
|---|---|--|---|
| <p>blok 4 doel 1</p> <ul style="list-style-type: none"> Je leert sommen als 4×67 uitrekenen met de basisstrategie: splitsen. Je weet welke stappen je moet nemen en begrijpt ook hoe dat gaat.  |  | <p>blok 4 doel 3</p> <ul style="list-style-type: none"> Je begrijpt dat bij delen steeds hetzelfde eraf gaat: je kunt een deelsom tekenen op de getallenlijn. <p>Op de bakplaat liggen 32 krentenbollen. De bakker doet er 4 in een zakje. Hoeveel zakjes kan de bakker vullen?</p>  |  |
| <p>blok 4 doel 1</p> <ul style="list-style-type: none"> Je kunt sommen als 4×67 uitrekenen met de basisstrategie: splitsen.  |  | <p>blok 4 doel 2</p> <ul style="list-style-type: none"> Je begrijpt dat bij delen steeds hetzelfde eraf gaat. Je kunt bij een deelsom een verhaal bedenken. Je kunt dat verhaal leggen met blokjes en tekenen. Je kunt bij een deelverhaal en/of een plaatje een deelsom bedenken.  |  |

VERMENIGVULDIGEN EN DELEN

blok 4 doel 3

- ▶ Je begrijpt dat bij delen steeds hetzelfde eraf gaat.
- ▶ Je kunt een deelsom tekenen op de getallenlijn.
- ▶ Je kunt bij een deelverhaal een deelsom bedenken, ook als er een rest is.

Op de bakplaat liggen 21 krentenbollen. De bakker doet er 4 in een zakje. Hoeveel zakjes kan de bakker vullen? Zijn er krentenbollen over?



som: $21 : 4 = 5, 1$ over
antwoord: 5 zakjes, 1 over

hulpsom: $5 \times 4 = 20$



blok 4 doel 4

- ▶ Je leert een deelsom uitrekenen met een keersom en je begrijpt waarom dit mag.

som: $18 : 3 = 6$

Ik kijk hoeveel keer ik 3 af kan halen van 18. Dat kan 6 keer.

hulpsom: $6 \times 3 = 18$



GELD

blok 4 doel 5

- ▶ Je leert bedragen tot en met 100 euro maken en schrijven met het euroteken en een komma.
- ▶ Voor het bedrag achter de komma zijn meerdere munten nodig.



Het kost 26 euro en 70 cent.
Je zegt: 26 euro 70.
Je schrijft: € 26,70.



blok 7 doel 5

- ▶ Je leert uitrekenen hoeveel je terugkrijgt als je met te veel betaalt.
- ▶ Het bedrag dat je terugkrijgt, is meer dan € 1,00.



Het kost € 18,85.



Je geeft € 20,00.



Je krijgt € 1,15 terug.

