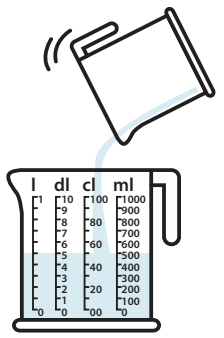
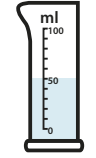


Ik weet hoe vaak het erin past

Hoeveel maatbekers van 50 cl heb je nodig om een maatbeker van 1 l te vullen?



Hoeveel maatbekers van 50 ml heb je nodig om een maatbeker van 1 l te vullen?



Ik kan omrekenen met kommagetallen

- 1,20 m = ... cm
- 6,12 m = ... cm
- 1,84 m = ... cm
- 2,49 m = ... cm
- 4,13 m = ... cm

- 124 cm =,... m
- 905 cm =,... m
- 845 cm =,... m
- 660 cm =,... m
- 173 cm =,... m

Boek 6a blok 3: De Zeeuwse kust



Ik kan verder en terug tellen

Steeds 1 terug

- 9003
-
-
-
-
-

Steeds 10 verder

- 4975
-
-
-
-
-

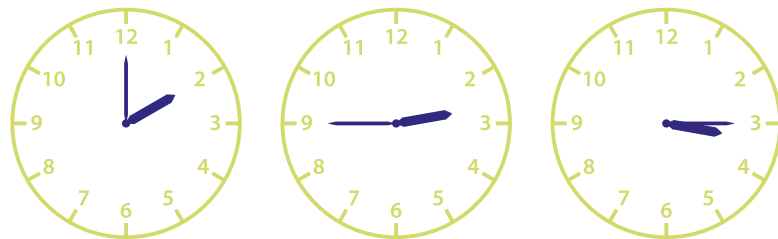
Ik kan omzetten naar een andere maat

- 2 m = ... cm
- 9 m = ... dm
- 20 dm = ... cm
- 500 cm = ... m
- 20 cm = ... dm
- 2 l = ... cl
- 5 dl = ... cl
- 2 l = ... dl
- 30 cl = ... dl
- 700 cl = ... l

Ik kan tijdsduur uitrekenen

Schrijf het zo op: a uur en minuten

a vertrektijd: half 4



Ik kan berekenen hoeveel het kost

BOOTVERHUUR		
verhuur	per dag	per week
motorboot	€ 60,-	€ 380,-
kajak	€ 17,-	€ 75,-
roeiboot	€ 23,-	€ 120,-
zeilboot	€ 90,-	€ 630,-
surfplank	€ 11,-	€ 70,-

- a Karim huurt 4 dagen een roeiboot.
- b De familie Van de Sande huurt 1 week een motorboot en een zeilboot.
- c Marieke huurt 5 dagen een surfplank.
- d Marjolein en Jean-Paul huren een zeilboot voor 3 weken.
- e Dennis huurt 2 dagen een kajak. Daarna huurt hij nog 1 week een surfplank.