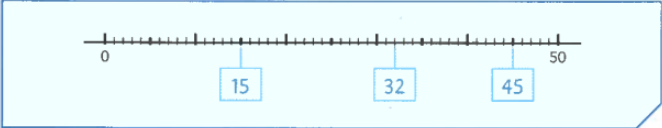

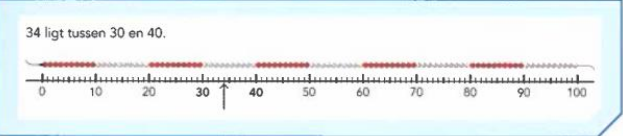



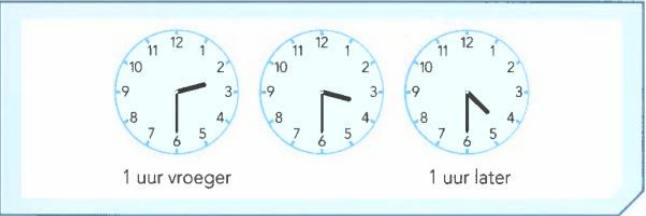

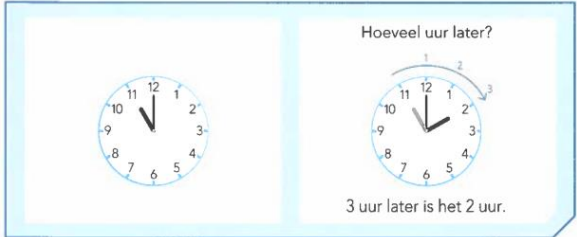



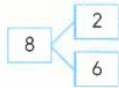
Doelen Blok 1 WIG5 groep 4

ORIËNTATIE GETALLEN			
<p>blok 1 doel 1</p> <p>► Je leert getallen tot en met 100 plaatsen en aflezen op de streepjesgetallenlijn.</p> 		<p>blok 1 doel 1</p> <p>► Je leert getallen tot en met 100 plaatsen en aflezen op de streepjesgetallenlijn.</p> <p>34 ligt tussen 30 en 40.</p> 	
<p>blok 1 doel 2</p> <p>► Je leert getallen tot en met 100 plaatsen en aflezen op een deel van de streepjesgetallenlijn.</p> 			
TIJD			
<p>blok 1 doel 5</p> <p>► Je leert de wijzers van een klok een uur vroeger of later zetten.</p> 		<p>blok 1 doel 5</p> <p>► Je leert bepalen hoeveel uur later het is en hoe laat het over een paar uur is.</p> 	

OPTELLEN EN AFTREKKEN

blok 1 doel 3

- Je leert bij elke splitsing 2 plussommen en 2 minsommen bedenken.



$$\begin{aligned} 2 + 6 &= 8 \\ 6 + 2 &= 8 \\ 8 - 2 &= 6 \\ 8 - 6 &= 2 \end{aligned}$$



blok 1 doel 4

- Je leert optellen en aftrekken tot en met 10.
- Je weet het antwoord zonder te tellen.
- Bij 'moeilijke' sommen kijk je naar het rekenrek.

10-som

$$6 + 4$$

5-som

$$9 - 5$$


'Moeilijke' som!
Kijk naar het rekenrek.

$$9 - 6$$

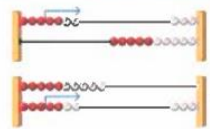


blok 1 doel 4

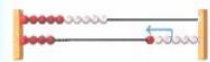
- Je leert sommen tot en met 20 uitrekenen.
- Je denkt daarbij aan de sommen tot en met 10.



$$4 + 3 = 7$$



$$7 - 4 = 3$$



$$14 + 3 = 17$$



$$17 - 4 = 13$$

14 + 3 reken je uit
met de kleine som: 4 + 3

17 - 4 reken je uit
met de kleine som: 7 - 4

